

受験番号	番
------	---

令和 8 年度

精道三川台高等学校 第 1 回入学試験問題

# 社 会

注 意

- 1 「始め」の合図があるまで、この問題冊子を開いてはいけません。
- 2 解答用紙の中にはさんであります。
- 3 「始め」の合図があったら、まず、受験番号を問題冊子および解答用紙の受験番号欄に記入しなさい。
- 4 問題は□1～□4で、1 ページから 1 7 ページまであります。
- 5 答えは、すべて解答用紙に記入しなさい。
- 6 「やめ」の合図で、鉛筆を置きなさい。
- 7 試験終了後は、問題冊子および解答用紙を机の上に置いたまま退出しなさい。

**1** 次の会話文を読み、あとの問いに答えなさい。

太郎：「人類の歴史って、日本だけじゃなくて世界全体で見るとすごく広がりがあるよね。」

花子：「うん。人類の誕生は **a** アフリカ って言われてるよね？そこから世界に広がっていったんだよね。」

太郎：「そう。最初はホモ・ハビリスとかホモ・エレクトスが登場して、やがてホモ・サピエンスが現れて、道具を使うようになったんだ。」

花子：「日本では旧石器時代に **b** 打製石器 を使って狩りや採集をしてたんだよね。世界でも同じような生活をしてたのかな？」

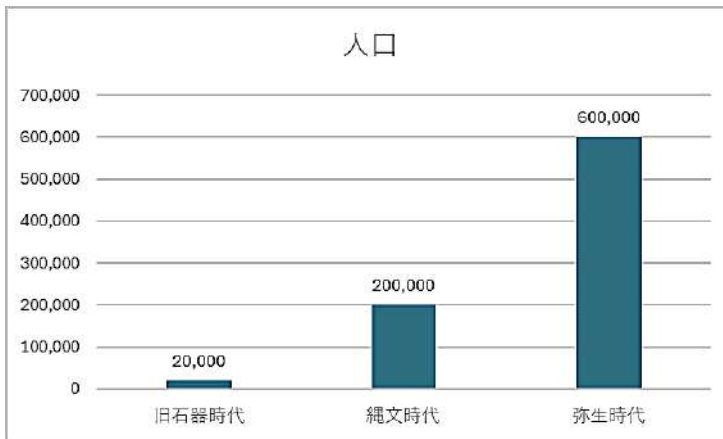
太郎：「うん。 **c** ヨーロッパではクロマニヨン人が<sup>どうくつ</sup>洞窟に絵を描いたりしてたし、アフリカやアジアでも石器文化が広がってたよ。」

花子：「縄文時代になると、日本では土器が使われて、定住生活が始まったんだよね。世界では農耕が始まって、 **d** メソポタミア や **e** エジプト で文明が生まれてた。」

太郎：「そう。日本では弥生時代に稲作が始まって、人口が増えて集落ができていった。中国や朝鮮半島から技術が伝わったって言われてるよ。」

花子：「世界の文明と比べると、日本の農耕の始まりは少し遅いけど、独自の文化が育っていったんだね。」

**資料Ⅰ 旧石器～弥生時代の人口推定グラフ**



**資料Ⅱ 世界の古代文明の成立**

地域	文明・時代名	主な特徴	成立時期（紀元前）
メソポタミア	メソポタミア文明	<sup>かんがい</sup> 灌漑農業、 <sup>くまび</sup> 楔形文字、都市国家	約 3000 年頃
エジプト	エジプト文明	ナイル川農業、象形文字	約 3100 年頃
中国	黄河文明	農耕、青銅器、甲骨文字	約 1600 年頃（ <sup>いん</sup> 殷）
日本	弥生時代	稲作、水田、金属器	約紀元前 4 世紀頃

### 資料Ⅲ



### 資料Ⅳ

倭人は南方に住み、百余国あり。女王卑弥呼を立てて国を治む。鬼道に事え、能く衆を惑わす。  
(「魏志」倭人伝)

問1 下線部 a について、アフリカ大陸の中でもっとも広い砂漠の名前を答えなさい。

問2 下線部 b の道具として正しいものを次から一つ選び、記号で答えなさい。

ア



イ



ウ



エ



問3 下線部 c について、この洞窟があるフランスは、気候区分ではどのような気候帯に属するか、次から一つ選び記号で答えなさい。

ア 熱帯    イ 温帯    ウ 乾燥帯    エ 寒帯

問4 下線部 d について、メソポタミア文明が発達したチグリス川・ユーフラテス川流域は、現在のどの国にあたるか、次から一つ選び記号で答えなさい。

ア エジプト    イ インド    ウ イラク    エ 中国

問5 下線部 e について、文章中の（    ）に入る共通の適語を答えなさい。

エジプト文明を育んだナイル川について、「エジプトはナイルのたまもの」という言葉がある。毎年夏に（    ）し、上流から栄養分を多く含んだ肥沃な土（シルト）を運んだ。水がひいた後に農業に適した土地が広がり、（    ）を利用し小麦や大麦などが栽培された。

問6 資料Ⅰについて、弥生時代に人口が増加した主な理由を会話文の文章を参考にして答えなさい。

問7 資料Ⅱについて、世界で最も早く文字が使われたとされる文明を答えなさい。

問8 資料Ⅲが使用されていた時代を答えなさい。

問9 資料Ⅳについて、卑弥呼が治めていた国の名称を答えなさい。

問10 次の文章を読み、あとの問いに答えなさい。

3世紀後半、日本列島では有力な豪族たちが連合し、やがて（ ア ）政権が成立した。彼らは巨大な前方後円墳を築き、（ イ ）を並べることで自らの権力を象徴した。

この時代、日本は朝鮮半島の百済や新羅と交流し、鉄器や漢字などの文化を受け入れた。**x** 中国の南朝に使者を送った倭王は、国際的な地位を主張した人物として知られている。

6世紀後半になると、仏教が本格的に受容され、日本の政治と文化は大きく変化する。聖徳太子は、儒教の思想を取り入れた（ ウ ）を制定し、冠位十二階によって豪族の序列を再編した。

また、**y** 遣隋使を派遣して中国の制度を学び、**z** 法隆寺などの寺院を建立することで、仏教を国家の安定に活用した。

(1) 文中の（ ）に入る適語を答えなさい。

(2) 下線部 **x** について、次の **A～C** の各資料からこの時の「倭王」と同一人物とされる人物の名前をそれぞれ抜き出さなさい。

**A** しんがいがい  
辛亥年(471年)七月中、...わ か た け る おおきみ獲加多支鹵大王（ワカタケル大王）の寺、し きのみや斯鬼宮に在る時、吾、天下を左治し、此の百練利刀を作らしめ...  
いなりやま（稻荷山古墳出土鉄剣銘文）

**B** こう  
興死して弟の武立つ。自ら使持節都督倭・百済・新羅・任那・加羅・秦韓・慕韓七  
こくしよぐんじ国諸軍事、あんどう安東大將軍、倭国王と称す。  
めいぶん（『宋書』倭国伝 478年）

C

系譜順	天皇名	在位（推定）
第15代	<small>おうじん</small> 応神天皇	4世紀後半
第16代	<small>にんとく</small> 仁徳天皇	5世紀前半
第21代	<small>ゆうりやく</small> 雄略天皇	5世紀後半
第26代	<small>けいたい</small> 継体天皇	6世紀前半
第29代	<small>きんめい</small> 欽明天皇	6世紀中頃
第30代	<small>びだつ</small> 敏達天皇	6世紀後半
第31代	<small>ようめい</small> 用明天皇	6世紀末
第32代	<small>すしゅん</small> 崇峻天皇	6世紀末
第33代	<small>すいこ</small> 推古天皇	7世紀前半

（3）下線部 **y** について、説明文として正しいものを一つ選び、記号で答えなさい。

- ア 日本は隋の制度を学び、仏教の教えを深めるとともに、朝貢関係<sup>ちやうこう</sup>を築いて隋の保護を得ようとした。
- イ 日本は隋との交流を重視し、儒教的な上下関係を受け入れたうえで、仏教の布教を進めようとした。
- ウ 日本は隋の制度を積極的に学びながらも、国書では自国の天皇を「天子<sup>てんし</sup>」と称し、隋と対等な立場を主張した。
- エ 日本は隋の軍事力に圧倒され、服従の意を示すことで戦争を避け、平和的な関係を築こうとした。

（4）下線部 **z** について、法隆寺におさめられているものとして正しいものを一つ選び、記号で答えなさい。

ア



イ



ウ



エ



**2** 次の説明文を読み、あとの各問いに答えなさい。

日本の中世は、平安時代の後半の時期から始まるとされている。この時期の政治とは、**a** 天皇が位を譲った後も、上皇として政治の実権を握り続けるしくみで、1086年に白河天皇が始めた。この制度により、天皇・上皇・貴族の間で権力争いが激しくなり、政治が不安定になっていった。

このころ、世界ではヨーロッパの中世が進行しており、封建制度と呼ばれるしくみが広がっていた。封建制度とは、王が家来に土地を与え、その代わりに戦いのときに助けてもらう関係である。日本でも、貴族の家来だった武士が力をつけ、土地を守るために戦うようになり、似たような関係が生まれていった。

12世紀には、**b** 平清盛が武士として初めて朝廷の高い位につき、政治の中心となった。  
**c** 清盛は中国の宋と貿易を行い、経済を発展させた。これは、同じ時期にヨーロッパで十字軍が遠征を行い、東西の交流が活発になっていたことと重なる。日本と中国の貿易も、世界の中での交流の一部であった。その後、源頼朝が平氏を倒し、1192年に鎌倉幕府を開いた。鎌倉幕府では、将軍と家来の武士の間に **d** 「御恩と奉公」という関係があった。これは、ヨーロッパの封建制度とよく似ていて、世界史との共通点が見られる。

13世紀には、モンゴル帝国が **e** ユーラシア大陸に広がり、世界の多くの地域がつながるようになった。日本にも、モンゴルが支配する元が攻めてきた。これは、日本が世界の大きな動きの中に巻き込まれたことを示している。元寇は日本に大きな影響を与え、武士の力がさらに強まった。

14世紀には、後醍醐天皇が鎌倉幕府を倒し、建武の新政を始めたが、うまくいかず、足利尊氏が室町幕府を開いた。**f** 室町時代には、中国の明との貿易が行われ、東アジアの国々との交流が活発になった。これは、ヨーロッパで大航海時代が始まる少し前のことで、世界の商業活動が広がる流れの一部である。

15世紀後半からは、戦国時代に入り、各地の大名が自分の領地を守るために争った。このような地方分権的な政治のあり方は、ヨーロッパの封建領主の支配と似ている。さらに、16世紀にはポルトガル人が種子島に漂着し、鉄砲が伝わった。これは、世界史で「軍事革命」と呼ばれる火器の普及と関係しており、**g** 日本の戦い方にも大きな変化をもたらした。また、**h** キリスト教の宣教師が来日し、宗教や文化の交流も始まった。これは、ヨーロッパがアジアやアメリカに進出していた時期と重なり、日本も世界の動きの中に組み込まれていったことを示している。

このように、日本の中世は武士の時代へと移り変わる中で、世界の歴史とも深く関わった。封建制度、貿易、宗教、軍事技術など、さまざまな面で世界史とのつながりが見られる重要な時代であった。

問1 下線部 a について、このような政治を何というか答えなさい。

問2 下線部 b について、このときについた位の名称を答えなさい。

問3 下線部 c について、資料Ⅰは日宋貿易の航路を示している。日本の港（大輪田泊）が発展した理由を「瀬戸内海」という語句を使って説明しなさい。

#### 資料Ⅰ

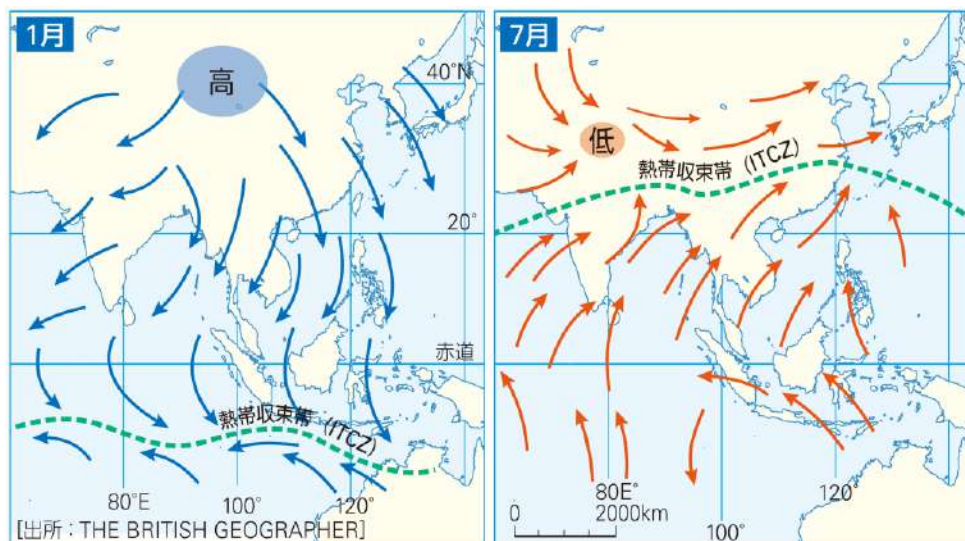


(山川&二宮ライブラリ)

問4 下線部 d について、鎌倉幕府の「御恩と奉公」の関係が、ヨーロッパの封建制度と似ている点を簡単に説明しなさい。

問5 下線部 e について、資料Ⅱを見て、次の文中の（ ）に適語を入れなさい。

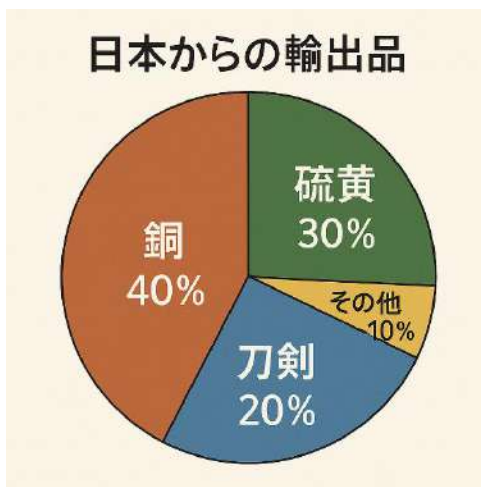
#### 資料Ⅱ



モンゴルや日本を含む東アジアで、季節によって風の向きが大きく変わる風のことを( A )といいます。夏は海から大陸に向かって湿った風が吹き、たくさんの雨をもたらします。冬は逆に大陸から海に向かって冷たく( B )風が吹き、雨が少なくなります。このため、アジアの国々では農業や生活に大きな影響を与えています。

問6 下線部 f について、資料Ⅲのように日本から明へ銅や硫黄が多く輸出された。なぜこれらが日本で豊富に得られるのか説明しなさい。

資料Ⅲ



問7 下線部 g について、資料Ⅳを参考に戦術がどのように変化したのか説明しなさい。

資料Ⅳ 長篠合戦



問 8 下線部 **h** について、ヨーロッパでは宗教改革が起こり、ローマ・カトリックの権威は衰退した。その権威の回復を目指して世界的な布教を始め、日本にもカトリックの伝来があった。

(1) その宗教改革でヨーロッパで台頭した勢力はなんという勢力か答えなさい。

(2) 日本にキリスト教を布教した資料Ⅴの人物名を答えなさい。

資料Ⅴ



問 9 次の表は中世の日本各地の名産物を示した地図である。あとの問いに答えなさい。

表

瀬戸内海沿岸	塩・海産物
北九州	( ア )・米
伊勢・尾張	織物
東北	馬・( イ )
島根	たたら製鉄
琉球	南方産物・貿易品

(1) 鎌倉時代に蒙古襲来(元寇)の舞台となった北九州で、古くから産出し、のちに近代のエネルギー源にもなった資源は何か、表中の( ア )内に当てはまる語句を答えなさい。

(2) 東北地方で産出され、馬と並んで有力な交易品となった鉱物資源は何か、表中の( イ )内に当てはまる語句を答えなさい。

3 次の年表を見て、あとの各問いに答えなさい。

年表

年	日本の出来事	世界の出来事
1600	<b>a</b> <u>関ヶ原の戦い</u> 、徳川家康が実権を握る	イギリスで東インド会社設立
1639	<b>b</b> <u>鎖国政策</u> の完成	ヨーロッパで三十年戦争終結（1648年）
1853	ペリー来航	クリミア戦争勃発（1853年）
1868	<b>c</b> <u>明治維新</u>	イギリスで産業革命進行中
1894	日清戦争勃発	<b>d</b> 有色人種による欧米列強への勝利として注目される
1904	日露戦争勃発	
1914	第一次世界大戦勃発	
		ロシア革命（1917年）による社会主義国家誕生
1929	昭和初期、 <b>e</b> <u>世界恐慌</u> の影響で軍部台頭	世界恐慌が世界経済に打撃
1941	<b>f</b> <u>真珠湾攻撃</u>	ドイツがソ連に侵攻（バルバロッサ作戦）
1951	<b>g</b> <u>国際社会復帰</u>	<b>h</b> <u>冷戦</u> 構造が形成される（東西対立）

問1 下線部 **a** について、この戦いが行われた関ヶ原（岐阜県西部）は、日本の主要な地形区の境界に位置している。この地域が属する平野の名称を答えなさい。

問2 下線部 **b** について、あとの問いに答えなさい。

- （1）江戸幕府は、外国人を長崎に限って居住させた。オランダ人は出島に、中国人はある専用の居住地に住まわせ、貿易を厳しく管理した。中国人が住まわされたその居住施設の名前を資料Ⅰと資料Ⅱをもとに答えなさい。

資料Ⅰ



(長崎歴史文化博物館蔵)

資料Ⅱ



(長崎歴史文化博物館蔵)

(2) 鎖国政策に関連する出来事を、年代順に並べ替えなさい。

- ア オランダ商館が長崎・出島に移される
- イ 島原・天草一揆が起こる
- ウ 日本人の海外渡航・帰国が禁止される
- エ ポルトガル船の来航が禁止される

問3 下線部cについて、次の資料を見てあとの問いに答えなさい。

資料Ⅲ



資料Ⅳ

我が国は欧米諸国との条約改正を望むも、現状では国際法上の信頼を得るに至らず。まずは国内制度の整備を急ぐべし。  
(岩倉使節団報告書)

- (1) 「欧米諸国との条約改正」とあるが、改正しようとした条約とは何か答えなさい。
- (2) 国内制度の整備について、次の文章の( )に適語を入れ、その目的として正しいものを一つ選び、記号で答えなさい。

明治5年(1872年)、政府は( )を發布し、全国に小学校を設置する方針を示した。この制度により、教育の義務教育化が進められた。

- ア 武士の身分制度を復活させる
- イ 国民の読み書きの力を高め、日本という国を意識させる
- ウ 農村に住む人々が都市へ移り住むことをうながす
- エ 外国から来た人々が教育を受けられるように支援する

問4 表中 **d** の期間の戦争について、次の資料を見て、あとの問いに答えなさい。

項目	日清戦争	日露戦争	第一次世界大戦
講話 条約	(    ア    ) 条約	(    イ    ) 条約	(    ウ    ) 条約
獲得 権益	台湾・澎湖諸島・賠償金	南樺太・満州の鉄道利権・朝鮮支配	山東半島・南洋諸島の旧ドイツ権益
国際的 地位の 変化	清に勝利 → 列強の注目を集める	ロシアに勝利 → 列強の一員と認識	(    エ    ) の常任理事 国に選出
戦後 状況	勝利に歓喜	賠償金なしに不満 → 日比谷焼き討ち事件	戦後好景気 → 大正デモクラシーへ

- (1) 表中の (    ) に適語を入れなさい。
- (2) 次の資料Vは日清戦争で得た賠償金を活用し、建設された官営工場である。この工場名を答えなさい。

資料V



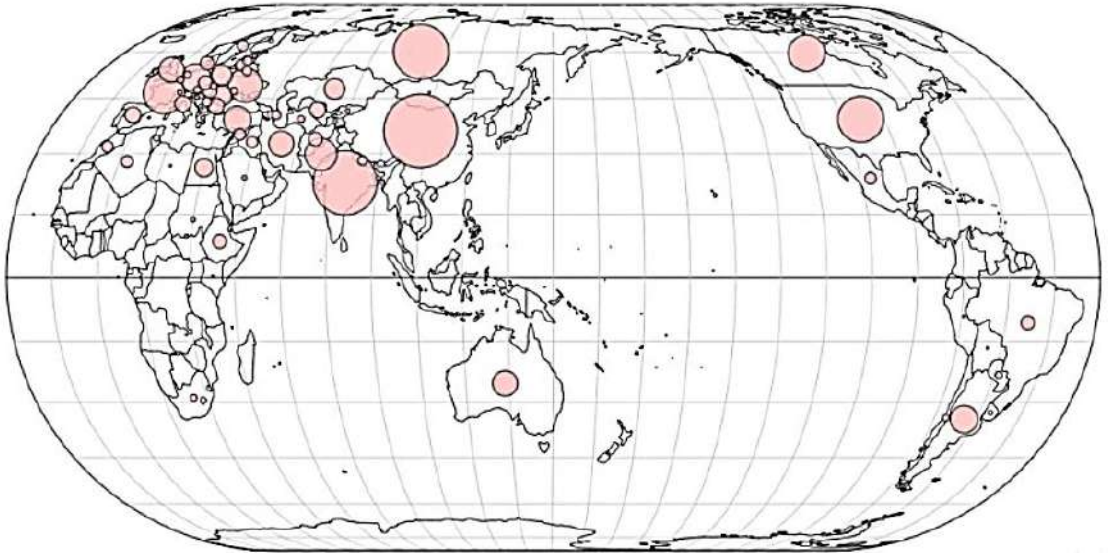
- (3) 次の資料VIは日露戦争の風刺絵である。日本についての二か国の国名を答えなさい。

資料VI



- 問5 下線部 e について、1929 年の世界恐慌で深刻な打撃を受けたアメリカだが、その中西部は、農業生産が盛んなことから「世界の穀倉地帯」と呼ばれている。次の資料Ⅶを参考にして、この地域で主に栽培されている作物を答えなさい。
- ※資料Ⅶの○の大きさは、生産量を示している。

資料Ⅶ



(山川&二宮ライブラリ)

- 問6 下線部 f について、日本の標準時子午線は東経 135 度、ハワイの標準時子午線は西経 160 度である。日本が 1941 年 12 月 11 日 午後 1 時 40 分と仮定したとき、ハワイの現地時間は、1941 年の何月何日の何時何分になるか答えなさい。

- 問7 下線部 g について、あとの問いに答えなさい。

- (1) 次の資料Ⅷは日本が主権回復のために連合国と結んだ講和条約調印場面である。この条約の名称を答えなさい。

資料Ⅷ



- (2) 次の資料は講和条約の参加国と講和形式の内容を示したものである。これらの資料から日本はどの形式で調印し、国際社会復帰を果たしたのか答えなさい。

### 講和条約の参加国 (1951)

署名国 (48 か国)	アメリカ、イギリス、フランス、オーストラリア、ニュージーランド、カナダ、フィリピン、パキスタン、タイ、トルコ、イタリア、オランダ、ベルギー、ノルウェー、デンマーク、ギリシャ、イラン、イラク、サウジアラビア、エチオピア、など
不参加・反対国	ソ連 (後のロシア)、中国 (中華人民共和国・中華民国ともに招待されず)、インド、ビルマ (現ミャンマー) など

### 講和形式について

項目	単独講和	全面講和
定 義	一部の国 (主に西側諸国) とのみ講和を結ぶ	すべての関係国 (東西両陣営) と講和を目指す
主な支持者	吉田茂 (日本政府)、アメリカ	日本社会党、日本共産党、ソ連、中国など
目 的	早期の主権回復と国際社会復帰	中立的立場の維持と広範な平和 <sup>こうはん</sup>
メ リ ッ ト	実現可能性が高く、迅速な講和が可能 <sup>じんそく</sup>	より広範な国際的承認が得られる可能性
デメリット	冷戦構造に組み込まれるリスク	実現困難で講和が遅れる可能性

- 問 8 下線部 **h** について、東西冷戦下で勃発<sup>ぼっぱつ</sup>した代理戦争の事例として正しいものをすべて選び、記号で答えなさい。

- ア 朝鮮戦争
- イ 中東戦争
- ウ キューバ危機
- エ アメリカ同時多発テロ事件

**4** 次の説明文を読んで、あとの各問いに答えなさい。

**説明文 A**

人間が生まれながらに持つ人間としての権利を人権（基本的人権）という。18 世紀に起こった近代革命によって **a** 人権思想 が国王の権力を打ち破り、人権宣言や憲法がつくられた。近代の人権宣言では、表現の自由や財産権の保障などの（ 1 ）が保障され、自由な経済活動が行われたことで、資本主義経済が発展した。しかし、貧富の差が拡大したため、労働運動が高まり、**b** 社会権 が生まれた。日本では、1889 年に発布された最初の近代憲法である **c** 大日本帝国憲法 によって「臣民の権利」として人権が認められたが、（ 2 ）により制限された。

**問 1** 文章中の（ ）に適語を入れなさい。

**問 2** 下線部 **a** について、「社会契約論」で人民主権を唱えた思想家を答えなさい。

**問 3** 下線部 **b** を最初に明記した 1919 年に制定された憲法を何というか答えなさい。

**問 4** 下線部 **c** において、主権者はだれか答えなさい。

**説明文 B**

日本国憲法の第 41 条は、国会について「国会は、国権の（ 1 ）機関であって、国の唯一の（ 2 ）機関である。」と定めている。国会には、選出のしかたの異なる **a** 衆議院と参議院 があり、**b** 衆議院には参議院よりも強い権限があたえられている。 また、**c** 国会にはいくつかの種類がある

**問 5** 説明文 B 中の（ ）に適語を入れなさい。

**問 6** 下線部 **a** について、あとの問いに答えなさい。

（1）このような制度を何というか答えなさい。

（2）衆議院議員の任期は何年か答えなさい。

（3）参議院議員の被選挙権があたえられるのは何歳以上か答えなさい。

問 7 下線部 **b** について、あとの問いに答えなさい。

(1) 下線部 **b** のことを何というか答えなさい。

(2) 次の文章は、内閣総理大臣の指名について述べている。文中の ( ) に適語を入れなさい。

「内閣総理大臣の指名で、参議院が衆議院と異なる議決をし、( ) を開いても一致しないとき、または、衆議院の議決の日から 10 日以内に参議院が議決しないときには、衆議院の議決が国会の議決となる。」

問 8 下線部 **c** について、あとの問いに答えなさい。

(1) 衆議院解散後の総選挙の日から 30 日以内に召集される国会名を答えなさい。

(2) 毎年 1 回、1 月中に召集される国会名を答えなさい。

問9 次の(1)～(4)の問いは、2025年に行われた国内のイベントに関する問いである。

(1) 右の資料は2025年に開催された国際的なイベント

「大阪・関西万博」の公式キャラクター「ミャクミャク」である。この万博では買い物や飲食の支払いに現金が使えない。どのような支払い方が導入されているか、カタカナで答えなさい。



(「大阪・関西万博」京都支援協議会)

(2) 下の写真①、写真②は、それぞれ原爆が投下された場所で行われた平和祈念式典である。式典にはアメリカ・イギリス・フランスなどの約120か国・地域が参列し、今回初めて参加する国・地域としてパレスチナと台湾が参加した。2025年は、原子爆弾投下から何年たつか答えなさい。

写真①



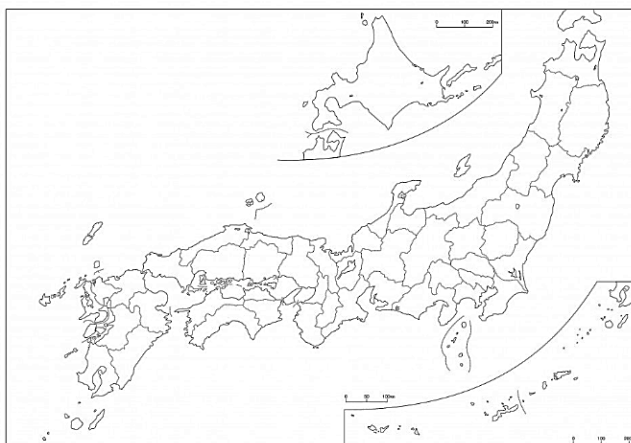
(JiJi.com)

写真②



(JiJi.com)

- (3) 原子爆弾が投下された都道府県は、長崎県とどこか。該当する都道府県を塗りつぶしなさい。(解答用紙の白地図を塗りつぶす)



(山川&二宮ライブラリ)

- (4) 次の文章と写真③、④を見て、なぜ長崎県の土地の値段がプラスになったのか、考えられる要因を **20 字程度** でまとめて書きなさい。

長崎県が 16 日に発表した県内の基準地価（1 平方メートル当たり、7 月 1 日現在）は、県全体の平均変動率が前年比 0.1%（前年は 0.0%）となり、1997 年以来、28 年ぶりにプラスに転じた。

【西日本新聞 2025.09.18 より】

写真③



(長崎旅ネット)

写真④



(JR 九州 HP)

受験番号	番
------	---

令 8 高(1)
----------

社 会

1

問 1		問 2		問 3		問 4			
問 5									
問 6									
問 7				問 8			問 9		
問 10	(1) ア			イ			ウ		
	(2) A			B			C		
	(3)			(4)					

2

問 1				問 2			
問 3							
問 4							
問 5	A			B			
問 6							
問 7							
問 8	(1)				(2)		
問 9	(1)				(2)		

3

問 1														
問 2	(1)					(2)	→      →      →							
問 3	(1)						(2)				記 号			
問 4	(1)	ア				イ	ウ							
	エ					(2)	(3)							
問 5						問 6								
問 7	(1)						(2)				問 8			

4

[illegible]

受験番号

番

令 8 高(1)

## 社 会

1

問 1	サハラ砂漠	問 2	ア	問 3	イ	問 4	ウ
問 5	氾濫（はんらん）						
問 6	稲作がはじまり、集落ができたため。						
問 7	メソポタミア文明		問 8	縄文時代		問 9	邪馬台国
問 10	(1) ア	ヤマト		イ	埴輪		ウ 憲法十七条
	(2) A	ワカタケル		B	武		C 雄略天皇
	(3)	ウ		(4)	ア		


2

問 1	院政		問 2	太政大臣	
問 3	瀬戸内海の内海航路に位置し、 <u>波が穏やか</u> で港として適していたため。				
問 4	<u>土地を与え、その代わりに戦いの際に助けてもらうこと。</u>				
問 5	A	モンスーン		B	乾いた
問 6	日本に火山が多いから。				
問 7	<u>騎馬隊</u> を中心とする戦術から、 <u>足軽隊</u> を使用した集団戦法へと変化した。				
問 8	(1)	プロテスタント		(2)	フランシスコ＝ザビエル
問 9	(1)	石炭		(2)	金

3

問 1	濃尾平野					
問 2	(1)	唐人屋敷	(2)	ウ → イ → エ → ア		
問 3	(1)	日米修好通商条約		(2)	学制	記号      イ
問 4	(1) ア	下関	イ	ポーツマス	ウ	ヴェルサイユ
	エ	国際連盟	(2)	八幡製鉄所	(3)	英・米
問 5	小麦		問 6	1941 年 12 月 10 日午後 6 時 40 分		
問 7	(1)	サンフランシスコ平和条約		(2)	単独講和	問 8      ア・イ

4

問 1	(1)	自由権	(2)	法律		
問 2	ルソー		問 3	ワイマール憲法	問 4	天皇
問 5	(1)	最高	(2)	立法		
問 6	(1)	二院制（両院制）	(2)	4 年	(3)	30 歳以上
問 7	(1)	衆議院の優越	(2)	両院協議会		
問 8	(1)	特別会(特別国会)	(2)	常会(通常国会)		
問 9	(1)	キャッシュレス	(2)	80 年		
	(3)					
	(4)	例 1 再開発や観光需要で土地の価値が高まったから 例 2 新幹線開業で観光や商業が活発化したから				