

受験番号	
------	--

令和 8 年度

精道三川台中学校 第 1 回入学試験問題

社 会

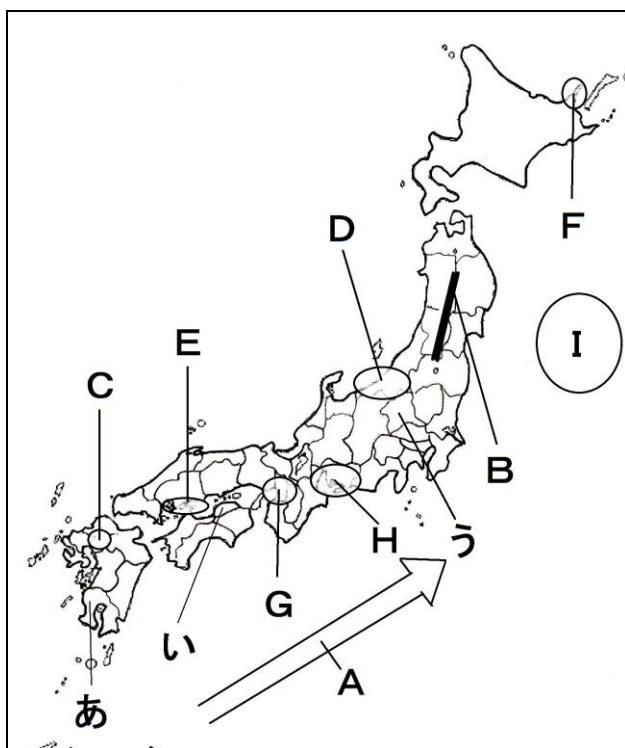
注 意

- 1 「始め」の合図があるまで、この問題冊子を開いてはいけません。
- 2 解答用紙は中にはさんであります。
- 3 「始め」の合図があったら、まず、受験番号を問題冊子および解答用紙の受験番号らんに記入しなさい。
- 4 問題は **1** ～ **3** で、1 ページから 6 ページまであります。
- 5 答えは、すべて解答用紙に記入しなさい。
- 6 答えはてきせつな漢字を使用して書きなさい。また、国名を書くときは、指定がなければ正式名称で書かなくてもよい。
- 7 「やめ」の合図で、筆記用具を置きなさい。
- 8 試験終了後は、問題冊子および解答用紙を机の上に置いたまま指示があるまで待ちなさい。

1

次の地図を見て、あとの問いに答えなさい。

地図



問1 あ・い・うの都道府県名を答えなさい。

問2 Aの海流名とBの山脈名を答えなさい。

問3 Cの地域にある平野名を答えなさい。

問4 下の文章はDの地域について説明した文章である。文章中の（ ① ）・（ ② ）にあてはまる語句を答えなさい。

この地域は、新潟平野があり、その中を日本一長い（ ① ）川が流れていて日本でも有数の（ ② ）地帯となっている。

問5 Eの地域の様子を説明した文章として正しいものを次のア～エの中から1つ選び、記号で答えなさい。

- ア 太田川の河口には扇状地^{せん}という地形がみられ、沿岸部ではのりの養殖^{しよく}がさかんである。
 イ 太田川の河口には三角州という地形がみられ、沿岸部ではかきの養殖がさかんである。
 ウ かつてコンテナとり^{あつか}扱い数世界一だった国際貿易港があり、その沖合には空港がある。
 エ 海岸沿いに自動車の組み立て工場がたちならび、国際貿易港から海外へ輸出している。

問6 Fの地域の様子を説明した文章として正しいものを次のア～エの中から1つ選び、記号で答えなさい。

- ア この地域は、かつて日本最大であった銀山があり、2007年にユネスコ世界文化遺産^いに登録された。
 イ この地域にある半島は、入りくんだ地形のリアス式海岸であり、真珠^{じゆ}やアオサの養殖がさかんに行われている。
 ウ この地域にある半島では、野生動物や原始的な自然がみられ、2005年にユネスコ世界遺産に登録された。
 エ この地域は、農作物をつくるには不向きだが、牛の飼育に適した自然環境^{かん}があり、酪農^{らく}がさかんに行われている。

問7 Gの地域にある工業地帯名を答えなさい。

問8 Hの地域にある工業地帯にあてはまるグラフを下のア～エの中から1つ選び、記号で答えなさい。





[工業製品出荷額の割合] 2022年

	食料品					せんい
	金属	機械	化学	食料品	その他	
ア	10.2	65.7	6.1	5.3	11.7	
イ	20.1	36.6	17.1	10.3	14.1	
ウ	19.4	33.8	24.9	7.2	12.6	
エ	10.2	42.2	9.3	13.5	16.7	

問9 Iの海域は、豊かな漁場となっています。この海域が豊かな漁場となっている理由を説明しなさい。

2

次のA～Dの資料をみて、あとの問いに答えなさい。

A		この人物やその子は、摂政 <small>せつしょう</small> や（ ① ）という役職について、勢力を強めました。この人物は、そのときの満足な気持ちをこめて「望月 <small>もちづき</small> の歌」を歌いました。
B		この人物は、占いやまじないで（ ② ）という国をおさめました。中国に使いを送り、中国の皇帝 <small>こうてい</small> から「親魏倭王 <small>しんぎわおう</small> 」の称号 <small>しょうごう</small> をさずかりました。
C		この人物は、中国のえらい僧です。航海に何度も失敗し失明しましたが、日本に渡 <small>わた</small> って仏教を広めました。奈良に（ ③ ）というお寺を建てました。
D		(空らん)

問1 A～Dの資料の人物名を答えなさい。

問2 A～Cの資料の（ ① ）～（ ③ ）にあてはまる語句を答えなさい。

問3 Aの資料の人物が活やくした時代にもっとも関わりのある資料を次のア～エの中から1つ選び、記号で答えなさい。


ア



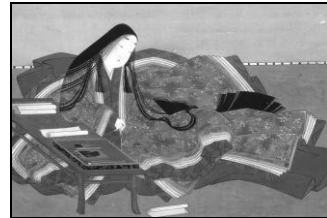
イ



ウ



エ



問4 Bの人物が活やくした時代ともっとも関わりのある文章を次のア～エの中から1つ選び、記号で答えなさい。

ア 人々は、長い時間とたいへんな労力をつかって、^{きよ}巨大な古墳^{ふん}をつくりました。

イ 日本にはじめて仏教が伝わり、政治や文化に大きな影^{えい}響^{きやう}を与えました。

ウ 稲作が伝わり土地・水、食料をめぐり人々は争い、力のある村は弱い村を^{したが}従えました。

エ 人々は移住しながら生活をし、狩りや漁、木の^か実の採集で食料を得ていました。

問5 次の文章は、Cの人物が活やくした時代の中国の様子を述べたものである。

(X) と (Y) にあてはまる語句の組み合わせを次のア～エの中から1つ選び、記号で答えなさい。

中国は、シルクロードを利用して西アジアやヨーロッパと交易を行っていました。
中国から西アジア・ヨーロッパへ (X) や絹を運び、逆に西からは (Y)
や宝石が運ばれて来ていました。

ア X = 紙 Y = 馬

イ X = 紙 Y = コーヒー豆

ウ X = 馬 Y = 紙

エ X = コーヒー豆 Y = 紙

問6 A～Dの資料を時代が古い順にならべかえなさい。

問7 Dの資料は、説明文が空らんである。Dの資料の説明文を考え、作りなさい。

問1 2009年から導入された、国民が裁判に参加する制度のことを何というか答えなさい。

問2 次のア～エの中から、市役所の働きではないものを1つ選び、記号で答えなさい。

- ア ごみの収集やリサイクルのしくみをつくる
- イ 住民の引っ越しにともなう住所変更の手続きを行う
- ウ 学校や公園などの整備^{しん}を行う
- エ 市の予算案を審議^{しん}して決定する

問3 次の会話文を読んで、あとの問いに答えなさい。

【会話文】

- たかし： この前、参議院選挙があったね。うちのお姉ちゃんが初めて投票に行ったらしいよ。国会議員の中から内閣の総理大臣や（ A ）が選ばれるから、大事だって言ってた。
- ななこ： へー、たかし君のお姉ちゃんて（ B ）歳^{さい}以上なんだ。
- たかし： そうだよ。
- ななこ： うちのお父さんが「国の未来を決める大事な日だ」って言ってたけど、C衆議院と参議院は何が違^{ちが}うのかな。
- たかし： 僕もよくわからないことがあった。参議院の議員定数って確か248人だったけど、今回の選挙で選ばれた議員は124人だった。
- ななこ： それなら、私わかるよ。参議院は D だよ。
- たかし： そうなんだ。そういえば授業で習ったような気がする。
- ななこ： まだまだ先になるけど、私も早く選挙に行ってみたいな。

(1) (A) と (B) にあてはまる語句や数字を答えなさい。

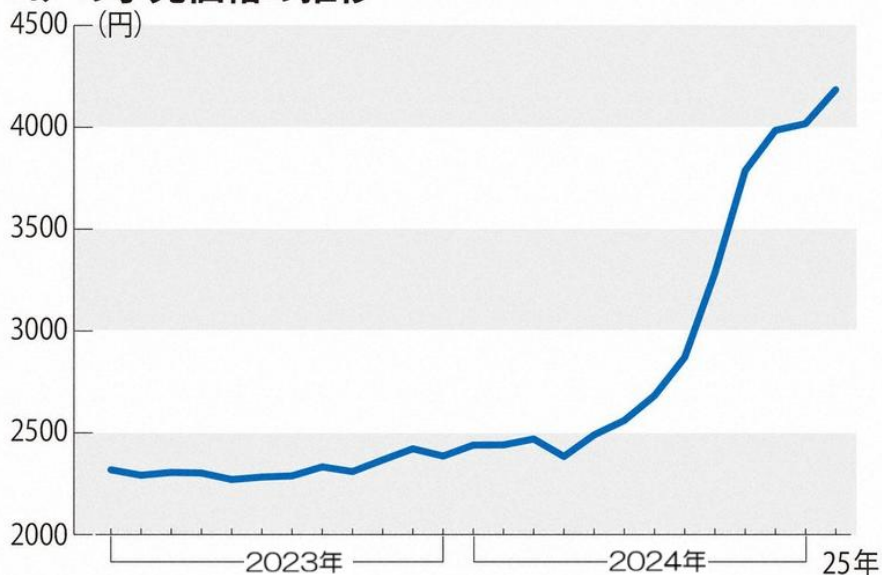
(2) 下線部Cについて、衆議院のみに関わるものを次のア～エの中から1つ選び、記号で答えなさい。

- ア 内閣総理大臣を指名する
- イ 予算を決議する
- ウ 内閣の不信任案を決議する
- エ 条約を承認^{しょうにん}する

(3) 会話文中の D にあてはまる文章を考え、答えなさい。

問4 次のグラフはスーパーマーケットなどでのお米のこうり小売価格（精米5Kg）の推移です。
2024年夏以降、急激に米の価格が高くなり、令和の米騒動とも言われました。私たち消費者や飲食業を営む多くの人が「米が高くて困っている」状態となった一方で、お米を生産する農家の人たちは「やっと適正な価格になった」や「もっと高くても良い」という思いがあります。どうして農家の人はそのような思いになるのか説明しなさい。

コメの小売価格の推移



※総務省小売物価統計より作成。東京都区部、精米(コシヒカリ)5kg当たり

(朝日新聞 2025. 3. 10 記事より)

受験番号	
------	--

社会

解答用紙

1	問1	あ		い	
		う			
	問2	A		B	山脈
	問3	C	平野		
	問4	①		②	
	問5			問6	
	問7	工業地帯	問8		
	問9				

2	問1	A		B	
		C		D	
	問2	①		②	
		③		問3	
	問4			問5	
	問6	→ → →			
	問7				

3	問1				問2		
	問3	(1)	A		B		
		(2)					
		(3)					
	問4						

受験番号	
------	--

令8 中(1)

社会

解答用紙

1	問1	あ	鹿児島県	い	香川県	
		う	群馬県			
	問2	A	日本海流(黒潮)	B	奥羽	山脈
	問3	C	筑紫	平野		
	問4	①	信濃	②	稲作	
	問5	イ		問6	ウ	
	問7	阪神		工業地帯	問8	ア
	問9	例) 日本海流(黒潮)と千島海流(親潮)がぶつかる潮目があり、魚のエサとなるプランクトンが豊富だから。				

2	問1	A	藤原 道長	B	卑弥呼	
		C	鑑真	D	聖徳 太子	
	問2	①	関白	②	邪馬台国	
		③	唐招提寺	問3	エ	
	問4	ウ		問5	ア	
	問6	B → D → C → A				
	問7	例) この人物は、推古天皇の摂政となり十七条の憲法や冠位十二階の制度をつくり、天皇中心の国づくりを行いました。				

3	問1	裁判員制度			問2	エ	
	問3	(1)	A	国務大臣		B	18
		(2)	ウ				
		(3)	例) 任期は6年だけと3年ごとに選挙を行い、 半数を入れかえているから				
	問4	(農業に必要な物資の値段が高くなっていること、農家の収入が 少ないこと、仕事が大変なのに収入が少なく農業の担い手が減 少していること、などに触れ適切な文章が記述されていること。)					